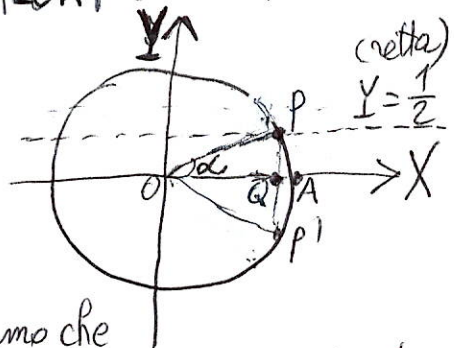


IMPORTANTISSIMO IN TRIGONOMETRIA!

Spesso, negli esercizi di trigonometria, si usa il fatto che
 $\sin \frac{\pi}{6} = \sin 30^\circ = \frac{1}{2}$, $\cos \frac{\pi}{6} = \cos 30^\circ = \frac{\sqrt{3}}{2}$, $\operatorname{tg} \frac{\pi}{6} = \operatorname{tg} 30^\circ = \frac{1}{\sqrt{3}} = \frac{\sqrt{3}}{3}$,
 $\sin \frac{\pi}{4} = \sin 45^\circ = \cos \frac{\pi}{4} = \cos 45^\circ = \frac{1}{\sqrt{2}} = \frac{\sqrt{2}}{2}$, $\operatorname{tg} \frac{\pi}{4} = \operatorname{tg} 45^\circ = \operatorname{cotg} \frac{\pi}{4} = \operatorname{cotg} 45^\circ = 1$,
 $\sin \frac{\pi}{3} = \sin 60^\circ = \frac{\sqrt{3}}{2}$, $\cos \frac{\pi}{3} = \cos 60^\circ = \frac{1}{2}$, $\operatorname{tg} \frac{\pi}{3} = \operatorname{tg} 60^\circ = \sqrt{3}$ (quindi $\operatorname{cotg} \frac{\pi}{6} = \sqrt{3}$,
 $\operatorname{cotg} \frac{\pi}{3} = \frac{1}{\sqrt{3}}$)

e nello studio delle (dis)equazioni trigonometriche si fa spesso un discorso di tal genere: "il valore $\frac{1}{2}$ è assunto dalla funzione seno dall'angolo di $\frac{\pi}{6}$ o 30° ". Nel materiale didattico del corso di Laurea in Farmacia (v. parte 1) i risultati sopra enunciati sono provati. Ora, lo scopo di queste note è provare il VICEVERSA senza "leggere" (o imparare a memoria) le tabelle, cioè: se un angolo α del PRIMO QUADRANTE è tale che $\sin \alpha = \frac{1}{2}$, allora $\alpha = 30^\circ (= \frac{\pi}{6})$, supponendo di NON CONOSCERE A PRIORI I VALORI DELLE FUNZIONI TRIGONOMETRICI A $30^\circ, 45^\circ, 60^\circ$.

1) Cominciamo col provare che: se α è un angolo del 1° Quadrante tale che $\sin \alpha = \frac{1}{2}$, allora $\alpha = 30^\circ$.



Disegniamo la circonferenza goniometrica, e consideriamo le coordinate X ed Y, ricordiamo che $X = \cos \alpha$, $Y = \sin \alpha$, e che l'equazione della circonferenza goniometrica è $X^2 + Y^2 = 1$ (perché è la circonferenza di centro l'origine (0,0) e raggio 1). Allora $\sin \alpha = \frac{1}{2}$ vuol dire $Y = \frac{1}{2}$, cioè $\overline{QP} = \frac{1}{2}$. Sia ora P' il punto simmetrico di P rispetto all'asse X, come in figura: allora, per simmetria, si ha $\overline{PP'} = 1$, mentre $\overline{OP} = \overline{OP'} = 1$ (sono 2 raggi della circonferenza goniometrica). Allora il triangolo OPP' è equilatero, perché ha tutti i 3 lati uguali (misurano 1); e quindi i suoi angoli sono tutti quanti di 60° . In particolare, $\widehat{POP'} = 60^\circ$ e, per simmetria, $\alpha = \widehat{POQ} = 30^\circ$.

2) Proviamo ora che, se α è un angolo del 1° Quadrante tale che $\cos \alpha = \frac{\sqrt{3}}{2}$, allora $\alpha = 30^\circ$.

Come si procede? $\frac{\sqrt{3}}{2}$ potrebbe essere un po' "complicatino", da trattare. Ricordiamo che $\sin^2 \alpha + \cos^2 \alpha = 1$ (identità fondamentale, che nelle coordinate X ed Y si scrive $Y^2 + X^2 = 1$, cioè L'EQUAZIONE DELLA CIRCONFERENZA GONIOMETRICA) e che α sta nel 1° Quadrante, dove IL SENO E IL COSENO SONO ENTRAMBI POSITIVI. Allora da $\cos \alpha = \frac{\sqrt{3}}{2}$ si ricava $\cos^2 \alpha = \frac{3}{4}$, da cui $\sin^2 \alpha = 1 - \cos^2 \alpha = 1 - \frac{3}{4} = \frac{1}{4}$, e quindi $\sin \alpha = \frac{1}{2}$ (perché α è nel 1° Quadrante e quindi prendiamo il valore positivo). Da ciò usiamo il risultato del punto 1) e otteniamo $\alpha = 30^\circ$.

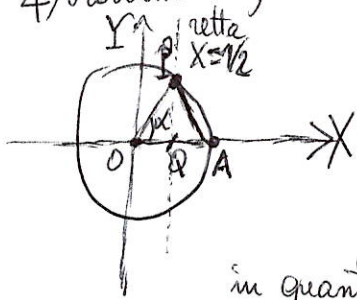
3) Proviamo che, se α è un angolo del 1° Quadrante tale che $\tan \alpha = \frac{1}{\sqrt{3}}$, allora $\alpha = 30^\circ$.

Notiamo che $\tan \alpha = \frac{\sin \alpha}{\cos \alpha} = \frac{Y}{X}$ ($Y = \sin \alpha$, $X = \cos \alpha$). Ma $\tan \alpha = \frac{1}{\sqrt{3}}$, quindi $\frac{1}{\sqrt{3}} = \frac{Y}{X}$, da cui $X = \sqrt{3} Y$. Ma $X^2 + Y^2 = 1$ (circonferenza goniometrica, o $\cos^2 \alpha + \sin^2 \alpha = 1$, identità fondamentale). Allora $X^2 = 3Y^2$, ma $Y^2 = 1 - X^2$, quindi

$$X^2 = 3(1 - X^2), \text{ cioè } X^2 = 3 - 3X^2, 4X^2 = 3, X^2 = \frac{3}{4}, X = \sqrt{\frac{3}{4}} = \frac{\sqrt{3}}{2}, \text{ ossia}$$

$\cos \alpha = \frac{\sqrt{3}}{2}$ (si prende il valore positivo perché α è nel 1° Quadrante, e dunque il coseno è positivo). Da ciò e dal punto 2) si ottiene $\alpha = 30^\circ$.

4) Proviamo che, se α è un angolo del 1° Quadrante tale che $\cos \alpha = \frac{1}{2}$, allora $\alpha = 60^\circ$.



Analogamente come nel punto 1) si ha: $X = \frac{1}{2}$, quindi $OQ = \frac{1}{2}$, ma anche $QA = \frac{1}{2}$ (dato che $OA = 1$, raggio della circonferenza goniometrica). Allora i triangoli

POQ e PQA sono congruenti (per il 1° criterio di congruenza,

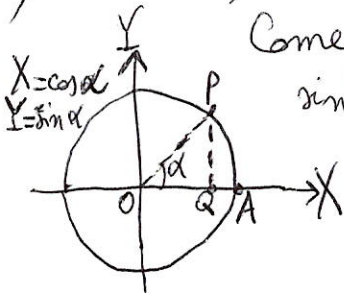
in quanto hanno uguali il lato PQ (comune), i lati OQ e QA , e l'angolo compreso (rispettivamente $O\hat{Q}P$ e $P\hat{Q}A$, che sono retti). In particolare $AP = OP = 1$ (raggio della circonferenza goniometrica), ed anche $OA = 1$. Allora il triangolo OPA è equilatero, e quindi tutti i suoi 3 angoli misurano 60° . In particolare, $\alpha = \hat{P}OQ = 60^\circ$, come volevamo dimostrare.

5) Proviamo ora che, se α è un angolo del 1° Quadrante tale che $\sin \alpha = \frac{\sqrt{3}}{2}$, allora $\alpha = 60^\circ$.

Procedendo come nel punto 2), ricordiamo che $\sin^2 \alpha + \cos^2 \alpha = 1$ e che α sta sul 1° Quadrante, dove sia il seno sia il coseno sono positivi. Allora da $\sin \alpha = \frac{\sqrt{3}}{2}$ si ha $\sin^2 \alpha = \frac{3}{4}$, quindi $\cos^2 \alpha = 1 - \sin^2 \alpha = 1 - \frac{3}{4} = \frac{1}{4}$, da cui $\cos \alpha = \frac{1}{2}$ (prendiamo il valore positivo, da ciò e dal punto 4) si ottiene $\alpha = 60^\circ$.

6) Proviamo che, se α è un angolo del 1° Quadrante tale che $\operatorname{tg} \alpha = \sqrt{3}$, allora $\alpha = 60^\circ$.
Notiamo che $Y = \sin \alpha$, $X = \cos \alpha$, quindi $\sqrt{3} = \operatorname{tg} \alpha = \frac{\sin \alpha}{\cos \alpha} = \frac{Y}{X}$, da cui $Y = \sqrt{3} X$, e dunque $Y^2 = 3X^2$. Ma $X^2 + Y^2 = 1$ (circonferenza goniometrica, o $\cos^2 \alpha + \sin^2 \alpha = 1$, identità fondamentale), da cui $X^2 = 1 - Y^2$, quindi $Y^2 = 3(1 - Y^2) = 3 - 3Y^2$, da cui $4Y^2 = 3$, $Y^2 = \frac{3}{4}$, $Y = \sqrt{\frac{3}{4}} = \frac{\sqrt{3}}{2}$, cioè $\sin \alpha = \frac{\sqrt{3}}{2}$ (si prende il valore positivo perché α sta sul 1° Quadrante, dove il seno è positivo). Da ciò e dal punto 5) si ottiene $\alpha = 60^\circ$.

7) Proviamo che, se α è un angolo del 1° Quadrante tale che $\sin \alpha = \frac{1}{\sqrt{2}}$, allora $\alpha = 45^\circ$.



Come "sistemiamo", $\frac{1}{\sqrt{2}}$? Usiamo l'identità fondamentale $\sin^2 \alpha + \cos^2 \alpha = 1$. Se $\sin \alpha = \frac{1}{\sqrt{2}}$, allora $\sin^2 \alpha = \frac{1}{2}$ e quindi $\cos^2 \alpha = 1 - \sin^2 \alpha = 1 - \frac{1}{2} = \frac{1}{2}$, da cui $\cos \alpha = \frac{1}{\sqrt{2}}$ (si prende il valore positivo, perché α è sul 1° Quadrante). Allora $\sin \alpha = \cos \alpha (= \frac{1}{\sqrt{2}})$, cioè $Y = X$, ossia $\overline{QP} = \overline{OQ}$, quindi il triangolo OPQ è

RETTANGOLO ISOSCELE. Allora gli angoli $\alpha = \widehat{POQ}$ e \widehat{OPQ} sono uguali, e quindi $\alpha + \alpha + 90^\circ (= \widehat{PQO}) = 180^\circ$, cioè $2\alpha + 90^\circ = 180^\circ$, $2\alpha = 180^\circ - 90^\circ = 90^\circ$, quindi $\alpha = 45^\circ$.

In modo analogo, usando sempre l'identità $\sin^2 \alpha + \cos^2 \alpha = 1$, si ottiene che:

8) Se α è un angolo del 1° Quadrante tale che $\cos \alpha = \frac{1}{\sqrt{2}}$, allora $\alpha = 45^\circ$.

9) Proviamo che, se α è un angolo del 1° Quadrante tale che $\operatorname{tg} \alpha = 1$, allora $\alpha = 45^\circ$.
Si ha: $1 = \operatorname{tg} \alpha = \frac{\sin \alpha}{\cos \alpha}$, quindi $\cos \alpha = \sin \alpha$, cioè $X = Y$, ossia $\overline{OQ} = \overline{QP}$. Procedendo come nel caso 7), si ottiene che il triangolo OPQ è rettangolo isoscele, ed $\alpha = 45^\circ$.